


Cycle 1 Défi de la boîte à œufs



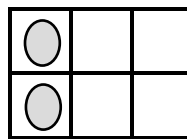
Pour cette activité tu as besoin:

- d'une boîte à 6 œufs
- de 2 œufs ou 2 flummis ou 2 capsules à café ou 2 objets ronds qui rentrent dans la boîte à œufs

Place les 2 œufs dans la boîte. Ensuite, dessine-les dans un des tableaux du bas de la page.

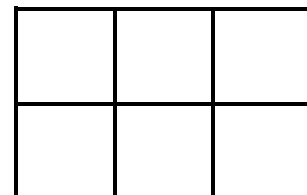
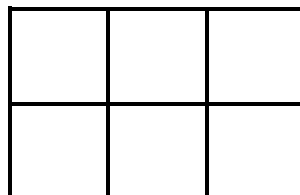
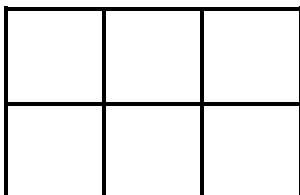
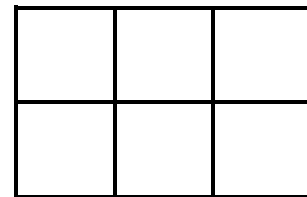
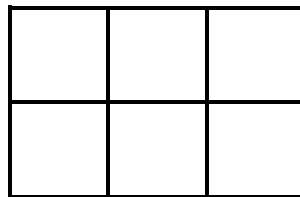
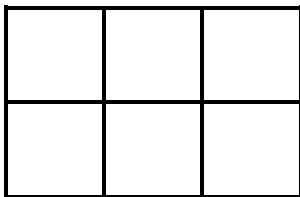


Voici un exemple :




Trouve 6 autres façons de placer les 2 œufs dans la boîte à œufs !

Dessine tes trouvailles dans les tableaux ci-dessous.



Cycle 2 Défi de la boîte à œufs

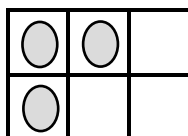


Pour cette activité tu as besoin:

- d'une boîte à 6 œufs
- de 3 œufs ou 3 flummis ou 3 capsules à café ou 3 objets ronds qui rentrent dans la boîte à œufs

Place les 3 œufs dans la boîte. Ensuite, dessine-les dans un des tableaux du bas de la page.

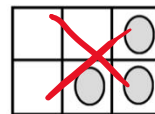
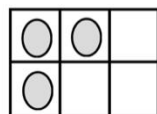
Voici un exemple :



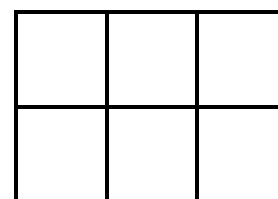
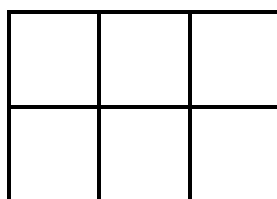
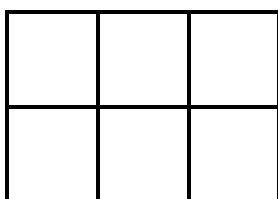
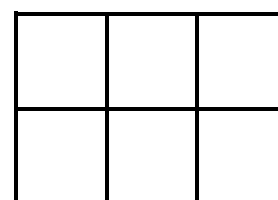
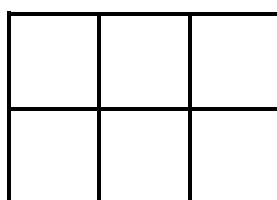
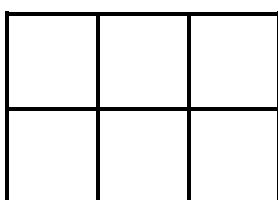
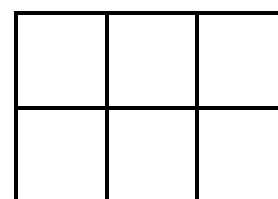
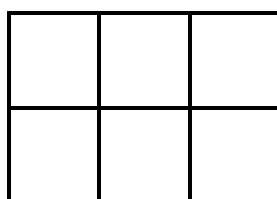
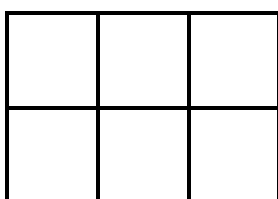
Trouve 9 façons différentes de placer les 3 œufs dans la boîte à œufs !

Attention :

Si tu obtiens le même résultat en tournant la boîte, alors ceci n'est pas une nouvelle possibilité !




Dessine tes trouvailles dans les tableaux ci-dessous.



Cycle 3 Défi de la boîte à œufs

Pour cette activité tu as besoin:

- d'une boîte à 6 œufs
- de 4 œufs ou 4 flummis ou 4 capsules à café ou 4 objets ronds qui rentrent dans la boîte à œufs



Place les 4 œufs dans la boîte. Ensuite, dessine-les dans un des tableaux du bas de la page.

Voici un exemple :

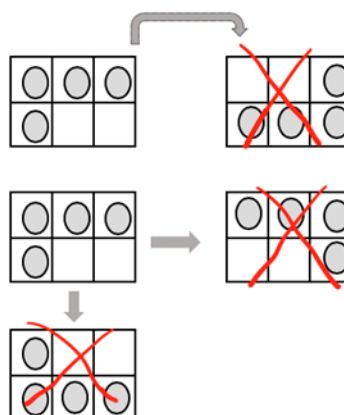


Trouve 5 autres façons de placer les 4 œufs dans la boîte à œufs !

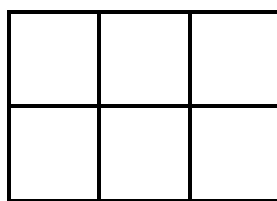
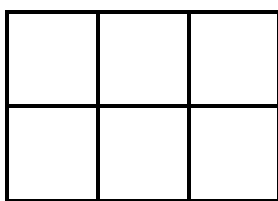
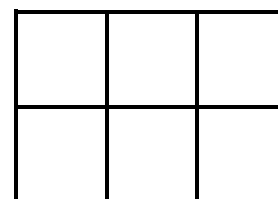
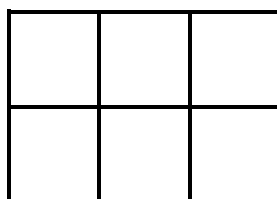
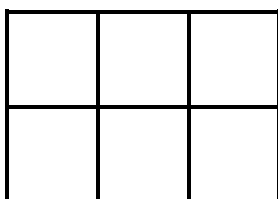
Attention :

Si tu obtiens le même résultat en tournant la boîte, alors ceci n'est pas une nouvelle possibilité !


Si tu obtiens le même résultat avec un miroir (symétrie axiale), alors ceci n'est pas une nouvelle possibilité !



Dessine tes trouvailles dans les tableaux ci-dessous.



Cycle 4 Défi de la boîte à œufs



Fabrique une boîte pour 8 œufs.

Place 6 œufs dans cette boîte.

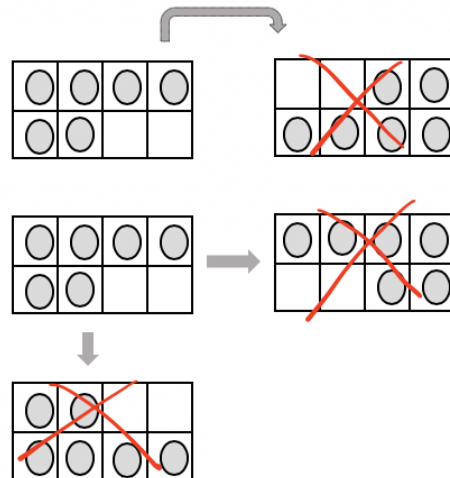
Dessine la disposition des 6 œufs dans les tableaux ci-dessous.

Trouve les 10 façons différentes de placer 6 œufs dans la boîte !

Attention :

Si tu obtiens le même résultat en tournant la boîte, alors ceci n'est pas une nouvelle possibilité !

Si tu obtiens le même résultat avec un miroir (symétrie axiale), alors ceci n'est pas une nouvelle possibilité !



Dessine tes trouvailles dans les tableaux ci-dessous.

